

Школьный этап  
Всероссийской олимпиады школьников  
по географии  
ученицы 5 класса

МКОУ Новоберезовской СОШ

**Каргиной Дарьи Денисовны,**

20.05.2014 г. рождения

ФИО учителя: **Майданкина Ольга Викторовна**



**Задание 2.**

об 2.1. Магдальена

об 2.2. Северный полюс

об 2.3. \_\_\_\_\_

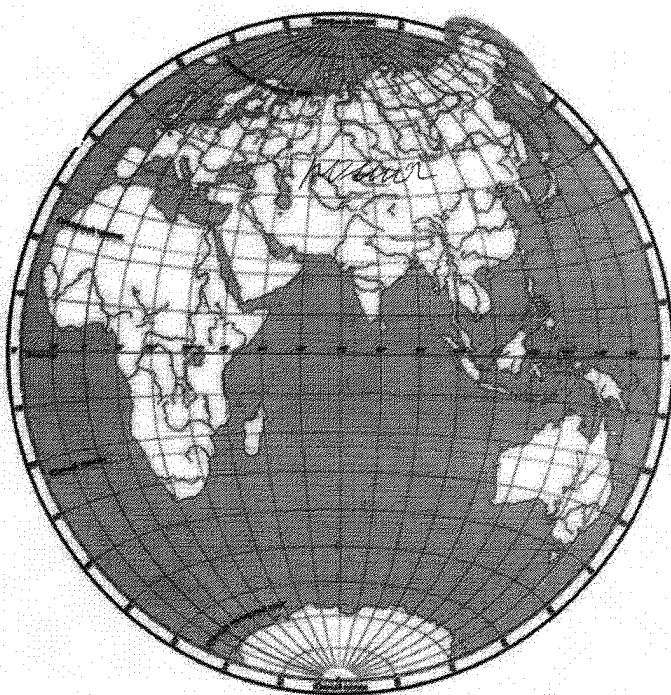
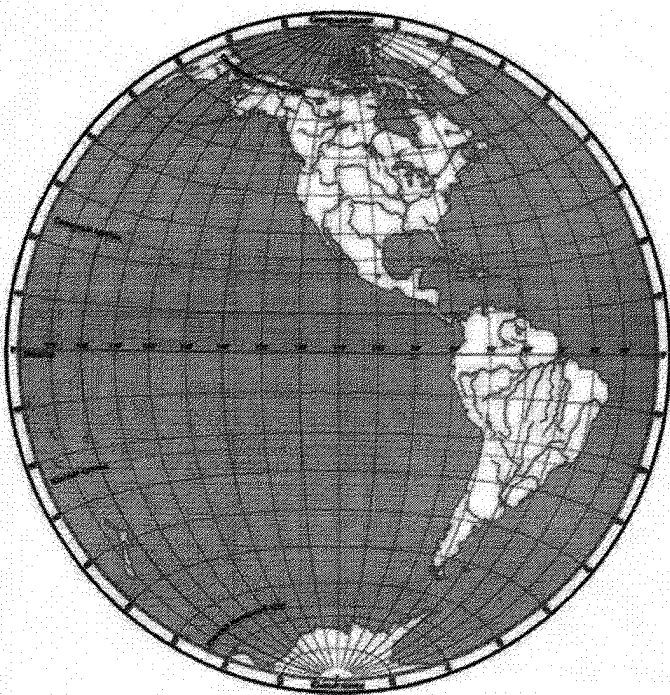
об 2.4. \_\_\_\_\_

**Задание 3.**

об 3.1. медведица

об 3.2. \_\_\_\_\_

**Задание 4.**



об 4.1. И. Адриан

об 4.2. \_\_\_\_\_

об 4.3. север полюс

4.4.

Голубым и синим цветами на физической карте изображены  
об например море  
пример, \_\_\_\_\_

Зеленым и желтым цветом на физической карте изображены  
сады и парки пример, \_\_\_\_\_  
леса

Темно - коричневым цветом на физической карте изображены  
горы пример, \_\_\_\_\_

I часть - 126 }  
II часть - 66 } 180

**Задания для обучающихся**

Время выполнения заданий – 75 минут

Время выполнения заданий тестового тура 30 минут

Время выполнения заданий теоретического тура 45 минут

**Максимальное количество баллов – 100 баллов**

**Тестовый тур (30 баллов)**

1. Солнце – это (1 балл):

- 1) планета;
- 2) звезда;
- 3) спутник Земли;
- 4) комета.

2. Луна – это спутник (1 балл):

- 1) Марса;
- 2) Венеры;
- 3) Земли;
- 4) Солнца.

3. Первое кругосветное путешествие совершил (1 балл):

- 1) Фернан Магеллан;
- 2) Христофор Колумб;
- 3) Джеймс Кук;
- 4) Васко да Гама.

4. Смена времён года происходит потому, что (1 балл):

- 1) Земля вращается вокруг своей оси с запада на восток;
- 2) Земля вращается вокруг Солнца (ось Земли наклонена у плоскости орбиты под углом 66,5°;
- 3) Зимой Солнце греет слабо;
- 4) Летом Солнце поднимается высоко над горизонтом.

5. Назовите материк, который пересекают все меридианы Земли (1 балл):

- 1) Африка;

2) Евразия;

3) Антарктида;

4) Австралия.

6. Какой океан называют Великим (1 балл)?

1) Тихий;

2) Атлантический;

3) Индийский;

4) Северный Ледовитый.

7. С помощью какого прибора определяют направление (1 балл)?

1) барометр;

2) рулетка;

3) градусник;

4) компас.





8. Назовите объекты, изображенные следующими знаками (3 балла):



9. Установите соответствие (8 баллов):


Основные формы рельефа	Характеристика
1. Евразия, Северная Америка, Африка, Антарктида.	а) Горы – участки земной поверхности, приподнятые над уровнем моря на высоту более 500 м.
2. Амазонская, Прикаспийская, Среднерусская, Среднесибирское	б) Мировой океан – непрерывный водный массив, окружающий материки.
3. Южный, Индийский, Тихий, Атлантический.	в) Материк (континент) – это крупнейший массив земной коры.
4. Кордильеры, Анды, Кавказ, Алтай.	г) Равнины – это обширные участки с ровной или холмистой поверхностью.

10. Установите соответствие: В ответе запишите соответствующую последовательность: буква шифра буква (12 баллов).

Полезные ископаемые	Характеристика	Условные знаки
А. Нефть	1. Бесцветный, легче воздуха и воды. Его основное свойство горючесть.	а) 
Б. Природный газ	2. Спрессованные остатки сгнивших растений. Его широко используют в промышленности.	б) 
В. Каменный уголь	3. Темное маслянистое вещество, из которого получают жидкое топливо.	в) 
Г. Торф	4. Плотное, черного цвета ископаемое, которое используется в качестве твердого топлива.	г) 

**Теоретический тур (70 баллов)**

Задание 1. Рассмотрите фотографии (20 баллов):



10.1. Какие явления природы представлены. Подпишите (3 балла).

10.2. Определите, какое явление опасно для людей? Составьте краткое описание этого природного явления (объемом до трех предложений) (5 баллов).

10.3. Установите соответствие (12 баллов):

Природа	Явления природы
А. Живая природа	1. Метель
	2. Листопад
	3. Линька животных

3

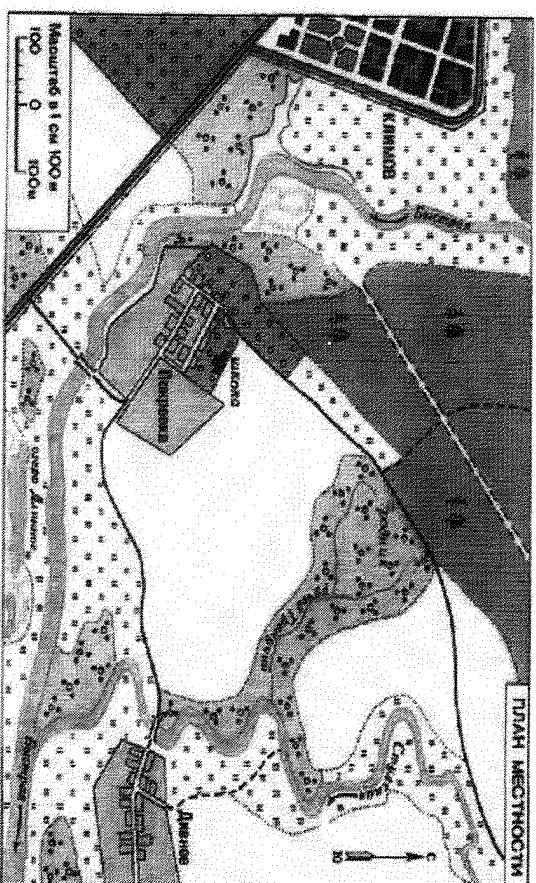
Б. Неживая природа	4. Туман
	5. Цветение
	6. Ветер

Задание 2. Корень слова ориентирование - ориент - означает «восток». Когда-то под ориентированием понимали нахождение востока. В настоящее время под этим понимают... (18 баллов)

2.1. Ориентирование - это... (2 балла)

2.2. Север, Юг, Восток, Запад - это основные стороны горизонта. Запишите промежуточные стороны горизонта (4 балла).


2.3. Рассмотрите рисунок. В каком направлении от школы находится родник, село Дивное, деревянный мост у села Покровка (3 балла)?



2.4. Способы ориентирования по местным признакам. Приведите не менее трех примеров с пояснениями (9 баллов).

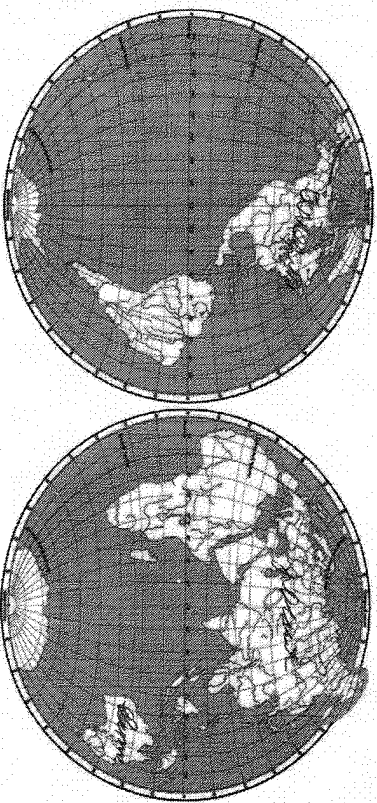
4

Задание 3. Рассмотрите рисунок (8 баллов):



- 3.1. Определите созвездие и подпишите его название (4 балла). *Морфей*
- 3.2. Какая из звезд созвездия никогда не меняет своего положения на небосклоне (4 балла). *Ковиль*

Задание 4. Работа с контурной картой (24 балла):



- 4.1. Подпишите на контурной карте части света.
- 4.2. Подпишите на контурной карте самую длинную параллель.
- 4.3. Сколько существует полюсов, через которые условно проходит земная ось?
- 4.4. Продолжите предложение и приведите примеры географических объектов:  
Голубым и синим цветами на физической карте изображены *леса* пример, *море*.  
Зеленым и желтым цветом на физической карте изображены *леса* пример, *гора*.  
Темно - коричневым цветом на физической карте изображены *реки* пример, *вулканы*.