

Школьный этап

Всероссийской олимпиады школьников

по труду (технологии)

ученицы 6 класса

МКОУ Новоберезовской СОШ

Гаврина Мария Юрьевна,

24.02.2013 г. рождения

ФИО учителя: Ботвенкина Оксана Николаевна

ВСЕРОССИЙСКАЯ ОЛИМПИАДА ШКОЛЬНИКОВ
ПО ТЕХНОЛОГИИ

ШКОЛЬНЫЙ ЭТАП

Направление «Культура дома, дизайн и технологии»

Теоретический тур

6 класс

1. (1 балл) Вставьте в текст пропущенные слова.

«Производство _____ за последние 10 лет шагнуло далеко вперёд.
_____ способны заменить человека в опасных и труднодоступных
местах, выполняют тяжёлую и монотонную работу».

Ответ: Роботы

2. а) (1 балл) Как называются пищевые продукты, о которых говорится в отрывке из стихотворения?

«В коровьем молоке богатство ваше,
А также в сыре, масле, простокваше.
И вы, конечно, отрицать не станете:
В кефире молодость, а красота – в сметане»?

Ответ: молочные

б) (1 балл) Чем полезны эти пищевые продукты?

Ответ: они богаты лактозой, кальцием, белками

в) (1 балл) Назовите 3 блюда, в рецепт которых входят некоторые из этих пищевых продуктов.

Ответ: сырники, каша, салат со сметаной

3. (1 балл) У Наташи есть бусины пяти видов: квадратные белые и чёрные, круглые белые и чёрные, чёрные треугольные. Девочка решила сделать браслет и стала называть их в таком порядке:



Какая бусина будет на 23-м месте, если Наташа сохранит начатый порядок?

Ответ: чёрная квадратная

4. (1 балл) Расположите буквы в правильном порядке, разгадайте зашифрованное слово, получите название текстильного изделия, имеющего декоративное значение. Используется в оформлении одежды, интерьера:

е ж в к о р у

Ответ: *кружево*

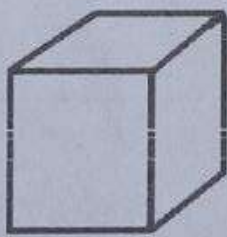
5. (1 балл) На какое максимальное количество кусков обоев по 265 см можно разрезать рулон длиной 10 м? Запишите решение и ответ.

Решение: $10 \cdot 100 = 1000 \text{ см}$

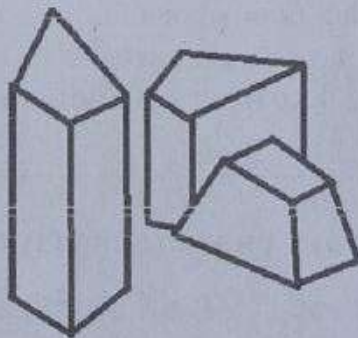
$1000 : 265 = 3 \text{ куска}$

Ответ: 3

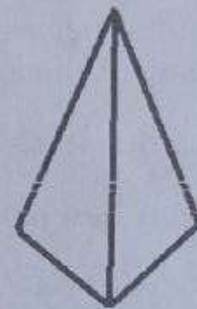
6. (1 балл) На рисунке изображён лёд разной формы, но одинаковой массы. Каким льдом можно быстрее охладить стакан воды?



А



Б



В


Ответ: *Б*

7. (1 балл) О какой профессии идёт речь в отрывке стихотворения Б. Гайковича?

«Он вёл их
По лесенке знаний,
Страной научил дорожить,
И видеть сквозь даль расстояний,
И с умницей-книгой дружить...»

Ответ: *Учитель*

8. а) (1 балл) Как называется ткацкое переплетение, схема которого изображена на рисунке?

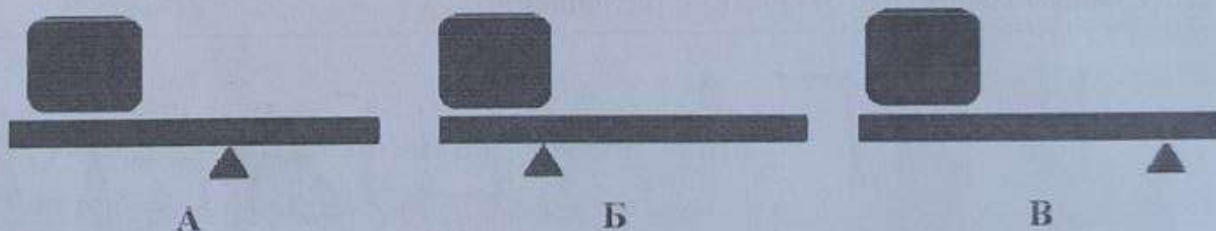


2
Ответ: полотняное

б) (1 балл) Приведите пример ткани с таким переплетением нитей.

0
Ответ: бязь, ситец, батист

9. (1 балл) Какой из рычагов, изображённых на рисунках, потребует приложения наименьшей силы, чтобы поднять груз?



1
Ответ: Б

10. (1 балл) Портные используют сокращения для обозначения мерок. Как портной для кошек запишет мерку «длина хвоста»?

1
Ответ: Дх

11. (1 балл) Вставьте пропущенное слово в предложение.

«Чем больше номер машинной иглы, тем _____ сама игла».

0
Ответ: меньше

12. (6 баллов) Творческое задание. Подготовьте праздник по мотивам сказки братьев Grimm «Бременские музыканты».



12.1 (2 балла) Нарисуйте открытку-приглашение.

ПРИГЛАШАЕМ



12.2 (1 балл) Придумайте текст приглашения на праздник.

Дорогие друзья! Приглашаем вас с нами разделить радостный день! Приходите и почувствуйте незабываемые чувства!

12.3 (3 балла) Нарисуйте тематический карнавальный костюм для этого праздника.

