

К-3

560

ВСЕРОССИЙСКАЯ ОЛИМПИАДА ШКОЛЬНИКОВ ПО ИСТОРИИ
2025-2026 уч. г. ШКОЛЬНЫЙ ЭТАП

8 класс

Уважаемый участник!

При выполнении работы внимательно читайте текст заданий. Содержание ответа вписывайте в отведённые поля, записи ведите чётко и разборчиво.

За каждый правильный ответ Вы можете получить определённое членами жюри количество баллов, не выше указанной максимальной оценки.

Сумма набранных баллов за все решённые вопросы – итог Вашей работы. Максимальное количество баллов – 90.

Задания считаются выполненными, если Вы вовремя сдали их членам жюри.

Время на выполнение работы – 120

минут. ***Желаем успеха!***

В заданиях 1–3 дайте один верный ответ. Ответ внесите в таблицу.

1. Имя какого монарха пропущено в историческом источнике?

«В лета 7116 году, при державе великаго государя царя и великаго князя [имя монарха] всея России, и при святейшем патриархе Гермогене Московском и всея России, и при государеве присном приятеле, боярине его, князе Михаиле Васильевиче Шуйском, за умножение грех ради наших, попущением Божиим по всей Рустей земли протекаше огонь и меч. Поляки, и Литва и Черкасы многие грады поймали, и веси попленили, и всюду еретицы Латинския веры нудящи православных христиан свет Евангельский оставити и тем еретичества соединитися...»

- 1) Иван IV Грозный
- 2) Борис Годунов
- 3) Василий Шуйский
- 4) Алексей Михайлович

2. Чья духовная грамота Вам представлена?

«А приказываю отчину свою Москву детям своим, князю Василью, князю Юрью, князю Андрею, князю Петру. <...>А се даю сыну своему, князю Василью, Коломну со всеми волостми, и с тамгою, и с мыты, и с бортью, и с селы, и со всеми пошлинами. <...>А се даю сыну своему, князю Юрью, Звенигород со всеми волостми, и с тамгою, и с мыты, и с бортью, и с селы, и со всеми пошлинами...»

- 1) Иван Калита
- 2) Дмитрий Донской
- 3) Василий I
- 4) Иван III

3. Какой из представленных соборов был построен до Батыева нашествия?

- 1) Успенский собор во Владимире-на-Клязьме
- 2) Архангельский собор Московского Кремля
- 3) Храм Христа Спасителя
- 4) Храм Иоанна Воина на Якиманке

Ответы:

1	2	3
3	2	1

Максимум за задания – 6 баллов.

В заданиях 4–6 выберите верные ответы. Ответы внесите в таблицу.

4. Кто из указанных лиц был правителем Священной Римской империи?

- 1) Генрих I Птицелов
- 2) Оттон I Великий
- 3) Генрих Наваррский
- 4) Матвей I Корвин
- 5) Фридрих I Барбаросса
- 6) Карл IV Люксембургский

5. Кто из указанных исторических деятелей имеет отношение к Первому крестовому походу?

- 1) Готфрид Бульонский
- 2) Юстиниан
- 3) Урбан II
- 4) Раймунд IV Тулузский
- 5) Карл II Лысый
- 6) Карл Мартелл

6. Укажите понятия, связанные с историей Англии XVII века.

- 1) «долгий парламент»
- 2) Алая и Белая роза
- 3) «звёздная палата»
- 4) нормандское завоевание
- 5) левеллеры
- 6) «славная революция»

Ответы:

4	5	6
2 5 6	1 3 4	1 5 6

Максимум за задания – 9 баллов.

7. Перед Вами перечень событий, произошедших в правление трёх российских правителей. Назовите этих правителей, занесите данную информацию в таблицу. Под именами правителей поставьте номера событий, произошедших в их правление.

- 1) строительство первой засечной черты
- 2) подавление Тверского восстания
- 3) чеканка первой золотой монеты
- 4) основание Киево-Печерского монастыря
- 5) строительство дубового Кремля в Москве
- 6) строительство храма святой Софии в Киеве

Ответ:

Правитель	Ярослав Мудрый	Иван Калита	Иван III
Событие	4, 6	3 5	2, 1

Максимум за задание – 9 баллов.

8. Что с исторической точки зрения объединяет перечисленные в ряду элементы? Дайте максимально точный ответ.

8.1. 1687, 1755, 1757, 1764.

8.2. М.И. Воронцов, К.Г. Разумовский, А.П. Бестужев-Рюмин, И.И. Шувалов.

Ответ: 8.1. Годы основания учебных заведений в России

8.2.

Максимум за задание – 6 баллов.

9. Дайте краткое обоснование ряда (что объединяет перечисленные элементы с исторической точки зрения) и укажите, какой из элементов является лишним по данному основанию.

9.1. 1582, 1618, 1634, 1667, 1681.

9.2. А.Ф. Адашев, А.М. Курбский, А.Л. Ордин-Нащокин, И.М. Висковатый.

Ответ: 9.1. Даты заключения мирных договоров между Россией и Речи Посполитой/Польшей Литвой; 1681

9.2. Выдающиеся государственные деятели и дипломаты России XVI века
Лишний: А.Л. Ордин-Нащокин

Максимум за задание – 8 баллов.

10. Расположите события в хронологическом порядке.

- 1) битва при Азенкуре
- 2) осада Пскова Стефаном Баторием
- 3) битва при Доростоле
- 4) битва при Креси
- 5) битва при Ларге
- 6) битва на реке Альте

Ответ:

6	3	4	5	1	2
---	---	---	---	---	---

Максимум за задание – 4 балла.

11. Установите соответствие между крепостями и правителями, при которых они появились: к каждой позиции первого столбца подберите соответствующую позицию из второго столбца.

КРЕПОСТИ	ПРАВИТЕЛИ
А) Белый город	1) Юрий Долгорукий
Б) Китай-город	2) Пётр I
В) Петропавловская крепость	3) Иван IV
Г) Свияжск	4) Иван III
Д) Земляные валы Переяславля-Залесского	5) Фёдор Иоаннович
	6) Елена Глинская

Ответ:

А	Б	В	Г	Д
5	4	3	2	1

Максимум за задание – 5 баллов.

12. Определите пропущенные в тексте названия, слова, имена, даты, обозначенные порядковыми номерами. При необходимости при порядковых номерах даются пояснения о характере требуемой вставки. Необходимые вставки впишите под соответствующими номерами в помещённую ниже таблицу.

«В (1) году произошло крупное антиордынское восстание в (2 – название города). Местные жители были возмущены наглым поведением ордынского (3 – название должности, собиратель налогов) Чол-хана и убили весь его отряд. Восставшие в (2) достаточно быстро уничтожили монголо-татарских представителей, а местный князь – (4 – имя и отчество) фактически отстранился как от участия, так и подавления восстания. Однако уже совсем скоро о событиях в этом городе узнал хан Золотой орды (5 – имя). Такое неповиновение не могло остаться незамеченным, и он собрал войско для карательного похода на этот город. Войско возглавил ордынский темник (6 – имя), однако значительную роль сыграл и московский князь (7 – имя и прозвище). Его мотивом было спасение Москвы от неминуемого попутного разграбления. Он соперничал с князьями города, где произошло восстание, за великое княжение (8 – название).»

Ответ:

Номер	Вставка
1	1321
2	Тверь
3	Баски
4	Александр Михайлович
5	Челк
6	
7	Иван Калита
8	

Максимум за задание – 8 баллов.



1. Представленная на карте война получила название Ливонская.
2. Город, обозначенный цифрой 1, являлся столицей Российского государства к началу войны, события которой обозначены на схеме.
3. Территория, обозначенная цифрой 2, была присоединена к Российскому государству спустя век, после отображённых на карте событий.
4. Генеральное сухопутное сражение этой войны произошло в месте, обозначенном цифрой 3.
5. Племянница русского правителя, участвовавшего в этой войне, правила в одном из прибалтийских государств, столица которого обозначена цифрой 4.


Ответ:

Номер	Вставка
1	<u>Ливонская</u>
2	<u>1</u>
3	<u>2</u> <u>4</u>
4	<u>3</u>
5	<u>4</u>

Максимум за задание – 10 баллов.

14. Соотнесите изображение исторического деятеля с его описанием, сделанным А.С. Пушкиным. Впишите имена этих деятелей в таблицу. В соответствующих столбцах укажите порядковый номер фрагмента описания исторического деятеля и цифровое обозначение народного восстания, которое произошло в его правление.

<p>А</p> 	<p>Б</p> 
---	--



Стихотворные фрагменты

1. Какая честь для нас, для всей Руси!
Вчерашний раб, татарин, зять Малюты,
Зять палача и сам в душе палач, Возьмёт
венец и бармы Мономаха..

2. Мне жаль великия жены,
Жены, которая любила
Все роды славы: дым войны
И дым парнасского кадила.
Мы Прагой ей одолжены,
И просвещеньем, и Тавридой,
И посрамлением Луны...

3. Известно то, что он слугою был
У Вишневецкого, что на одре болезни
Открылся он духовному отцу, Что
гордый пан, его проведав тайну, Ходил
за ним, поднял его с одра И с ним
потом уехал к Сигизмунду.

4. Но правдой он привлёк сердца,
Но нравы укротил наукой, И был
от буйного стрельца Пред ним
отличен Долгорукий.
Самодержавною рукой Он смело
сеял просвещение, Не презирал
страны родной:
Он знал её предназначенье.

Восстания

- I. Народный мятеж в Москве под руководством В. Шуйского и М. Татищева
II. Восстание Хлопка Косолапа
III. Астраханское восстание
IV. Чумной бунт

Ответ:

Буквенное обозначение портрета	Порядковый номер цитаты	Имя	Цифровое обозначение восстания
А	3	Александр Митурин	I
Б	4	Петр I Великий	II
В	1	Борис Годунов	IV
Г	2	Екатерина II	III

Максимум за задание – 12 баллов.

15. Перед Вами фрагмент из летописи. Прочитайте его и ответьте на вопросы.

«Создал же он себе городок каменный, под названием Боголюбове, столь же далеко Боголюбове от Владимира, как и Вышгород от Киева. Благоверный и христоролюбивый князь Андрей с юных лет Христа возлюбил и пречистую его Мать; знанье же отринув и рассужденья и, как хоромы чудесные, душу украсив всеми благими желаньями, уподобился царю Соломону, когда, храм Господу Богу и церковь преславную Рождества святой Богородицы посреди Боголюбова в камне создав, разукрасил ее больше всех церквей: подобна она той Святой Святых, которую царь Соломон премудрый создал <...> Князь Андрей и город Владимир неприступным сделал, к нему он ворота золотые соорудил, а другие – серебром отделал, и создал соборную каменную церковь в честь святой Богородицы, весьма прекрасную, и разными украшениями осыпал ее из золота и серебра, и пять куполов ее вызолотил, <...> но, кроме того, и другие он многие церкви поставил различные в камне, и монастыри он создал, почему на весь церковный синклит и на церковников всех и обратил Бог свой взор; и не отягчил своей памяти пьянством, и кормильцем был для монахов и монахинь, и нищих, и всякого звания людям он был как любимый отец, – но больше всего он милостив был подаяньем, слыша голос Господень: "Все, что творите вы малым сим, то мне вы творите". А также Давид говорит: "Блажен помогающий нищим, дающий всегда – от Господа он не отступится", – сила и разум в нем жили, и верная правда ходила с ним рядом <...> и такое достоинство имел: велел каждый день возить по городу еду и питье различное больным и нищим на пользу, и, видя всякого нищего, к нему приходящего с просьбой, подавал им по прошению их, говоря, будто "это Христос, пришедший испытать меня". И держал то слово в сердце всегда, потому и достойно от Бога смертный венец восприял ты, княже...»

90

15.1. О каком князе идёт речь? Укажите годы его правления.

Ответ: А. Ю Боголюбский 1157-1174 25

15.2. При каких обстоятельствах князь, о котором идёт речь в тексте, принял «смертный венец» и в каком году это произошло?

Ответ: _____

15.3. Какие добродетели князя упоминает летописец? Укажите три добродетели.

Ответ: Мелосердиче

Любовь к Христу

Почтение о Церкви

15.4. Какие архитектурные памятники упоминаются в тексте? Укажите три архитектурных памятника.

Ответ: Золотые ворота во Владимире

Землемский забор во Владимире

Богородицевоозанск

Максимум за задание – 13 баллов.

Максимум за работу – 90 баллов.