


1078
Ж-4

Тестовые задания

Определите один правильный ответ.

За правильный ответ начисляется 4 балла.

1. Определите смысловое значение данного дорожного знака.
- а) запрещение движения на велосипеде
 - б) приоритет велосипеда при движении
 - в) дальнейшее велосипедной дорожки
 - г) пересечение с велосипедной дорожкой или велосипедной дорожкой
2. Запрещается выгуливать собак, появляться с ними в общественных местах и в транспорте детям младше
- а) 11 лет
 - б) 12 лет
 - в) 13 лет
 - г) 14 лет
3. Определите смысловое значение данного знака, на водных объектах г. Москвы.
- а) «Купаться запрещено»
 - б) «Входить в воду запрещено»
 - в) «Опасно! Грязная вода»
 - г) «Купаться запрещено без сопровождения взрослых»
- 
4. Что представляет основную опасность во время грозы?
- а) удар молнии
 - б) сильный порывистый ветер
 - в) лицевой дождь
 - г) раскат грома
5. Выберите единственный номер системы обеспечения вызова экстренных оперативных служб субъекта Российской Федерации.
- а) 112
 - б) 911
 - в) 101
 - г) 102
6. Подземные толчки и колебания земной поверхности, возникающие в результате внезапных смещений и разрывов в земной коре или верхней части мантии Земли и передающиеся на большие расстояния в виде упругих колебаний, являются
- а) землетрясением
 - б) вулканическим землетрясением
 - в) эпицентром землетрясения
 - г) очагом
7. Кому необходимо в первую очередь сообщить об обнаружении бесхозной вещи в наземном городском транспорте?
- а) водителю лично или через пассажиров
 - б) сотруднику полиции по телефону
 - в) сотруднику МЧС по телефону
 - г) диспетчеру по передоворному устройству
8. Какой витамин образуется в коже из провитаминов под воздействием солнечных лучей?
- а) А
 - б) В₁
 - в) С
 - г) D
9. Какой признак является общим для всех закрытых механических травм?
- а) деформация
 - б) патологическая подвижность
 - в) отёк
 - г) укорочение повреждённой части конечности
10. Какое оптимальное положение тела придают пострадавшему с отсутствием сознания?
- а) лёжа на спине с приподнятой головой
 - б) лёжа на спине на ровной твёрдой поверхности
 - в) под углом
 - г) устойчивое боковое положение

Определите два правильных ответа.

За каждый правильный ответ начисляется 4 балла.

1. **Определите смысловое значение и область применения данного знака безопасности на объектах инфраструктуры ОАО «РЖД».**

- а) «Запрещается прикасаться. Корпус под напряжением»
- б) «Самовольное открытие и задержка закрытия дверей не допускается!»
- в) размещается в непосредственной близости от входных дверей в вокзал
- г) «Внимание. Опасность зажима!»
- д) наклеивается в тамбурах возле автоматических дверей, ведущих на выход



2. **Определите смысловое значение и группу данного знака безопасности.**

- а) запрещающий знак
- б) «Запрещается прикасаться. Опасно»
- в) «Запрещается нажимать»
- г) предупреждающий знак
- д) «Не входить!»



3. **Костёр подъя оптимально использовать для**

- а) просушки вещей
- б) подачи светового сигнала
- в) обогрева
- г) при отовлаживании пинии
- д) ночевки

4. **Что может являться источником пригонной ЧС?**

- а) землетрясение
- б) химическая авария
- в) эпидемия
- г) обвал
- д) катастрофа

5. **К признакам возникновения урагана относят**

- а) резкое падение атмосферного давления
- б) повышение температуры воздуха
- в) резкое прекращение дождя
- г) ливневые дожди
- д) быстрое исчезновение грозных облаков

6. **К опасным гидрологическим явлениям и процессам относят**

- а) карст
- б) град
- в) ливень
- г) лавину (снежную)
- д) селя

7. **В каком положении лучше держать руки, оказавшись в толпе?**

- а) перед грудью
- б) перед лицом
- в) отвести сильно в стороны
- г) сцепить в замок
- д) в карманах

8. **Выберите группы факторов, которые оказывают равноценное влияние на здоровье человека по данным Всемирной организации здравоохранения.**

- а) образ жизни
- б) наследственность
- в) уровень мезоклиматического обеспечения
- г) речулярность диспансеризации
- д) состояние окружающей среды

9. **Какие признаки свидетельствуют о наличии у пострадавшего частичной обструкции дыхательных путей при попадании в них инородного тела?**

- а) может говорить
- б) не может говорить
- в) кашляет
- г) дыхание значительно затруднено (шумное, хрипящее)
- д) дыхание отсутствует

10. **Какие действия запрещены при оказании первой помощи пострадавшему с термическим ожогом?**

- а) наложение нетугой повязки
- б) вскрытие ожоговых пузырей
- в) смазывание повреждённого участка жиром
- г) охлаждение повреждённого участка
- д) иммобилизация при глубоких ожогах

Теоретические задания

Задание 1 0

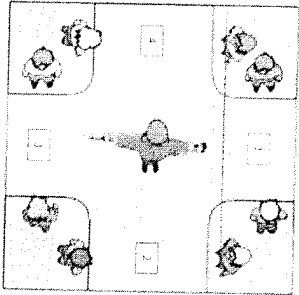
Расположите предложенные фрагменты в верной последовательности, чтобы в итоге получился, определение одного из участников дорожного движения.

| | |
|--------------------------------|---|
| вне транспортного средства на | 1 |
| лино, находящегося | 2 |
| не производящего на них работу | 3 |
| веломешеходной дорожке и | 4 |
| дороге либо на пешеходной или | 5 |

Запишите термин, определение которому Вы составили: Пешеход
пешеход или уличной.

Но каким пешеходным переходом могут пользоваться люди в изображённой ситуации? Выберите все верные ответы.


- V 1
- 2
- V 3
- 4



Задание 2

В вестибюле станции метрополитена размещён знак безопасности. О чём он предупреждает?

- «Осторожно. Малозаметное препятствие»
- V «Осторожно. Скользко»
- «Осторожно. Возможность падения с высоты»
- «Осторожно. Возможно опрокидывание»



Выберите пять правил безопасности на эскалаторе.

- Стой справа. лицом по направлению движения.
- Если нужно спуститься, то делай это с правой стороны, при этом не держись за поручень.
- V Стой слева, лицом по направлению движения.
- V Если нужно спуститься, то делай это с левой стороны и держись за поручень.
- V Не наступать на неравную льдую линию на ступенях и не задерживаться при спходе с эскалатора.
- При спходе с эскалатора остановись и осмотрись, прежде чем сделать шаг.
- V На эскалаторе нельзя сидеть и бегать.
- Сидеть на ступенях эскалатора можно только по направлению движения.
- V Не ставить вещи на ступени и поручни.
- На ступени и поручни можно ставить вещи, сумма измерений которых по длине, ширине и высоте не превышает 150 см.

Задание 3

28

Объекты железнодорожного транспорта являются зонами повышенной опасности, на которых действуют определенные правила поведения. Укажите, какие действия запрещены, а какие необходимо выполнять с целью обеспечения безопасности на объектах железнодорожного транспорта.

| | |
|---|----------------------|
| перел переходом через железнодорожные пути по пешеходному мостику | запрещённые действия |
| обеспечивать личную зону видимости | |
| прийти с пассажирской платформы | |
| ходить вдоль железнодорожных путей | |
| подвигать сигнал для остановки поезда в случае возникновения ситуации, требующей экстренной остановки железнодорожного подвижного состава | |
| переваливаться на самокатах и роликовых коньках | |
| пропускать малолетних детей впереди себя при посадке в вагон | необходимые действия |
| использовать наушники для прослушивания музыки, находясь на пассажирской платформе | |
| информировать о посторонних и (или) забытых предметах работников железнодорожного транспорта | |

Задание 4

148

Выберите безопасные и небезопасные действия во время грозы.

| | |
|--|-----------|
| прятаться под низкими деревьями и кустарниками | безопасно |
| прижаться спиной к стволу дерева | |
| сидеть в поле эфирона | |
| распластаться на земле | |
| встать под одинокое дерево, столб сена, столб | |
| сесть как можно ниже | |
| подняться на возвышенность | |
| при нахождении в воде выйти из воды и отойти от неё не менее чем на 100 м | |
| не приближаться к одиноко стоящим объектам | |
| при нахождении в воде поглотить ближнее к низкорослой растительности, находящейся в воде | |

Выберите пять деревьев, в которые чаще всего бьёт молния.

- акация
- бук
- липа
- дуб
- тополь
- ель
- сосна
- берёза

Задание 5

008

Рыночные повязки накладываются по определенным правилам. Определите, правильны ли положения бинтовых повязок, которые являются верными.

- Во время перевязки рекомендуется стоять лицом к пострадавшему (по возможности)
- Расположение человека, накладывающего повязку, относительно пострадавшего не имеет значения
- Приложение перевязываемой части тела можно менять в процессе перевязки
- Положение перевязываемой части тела нельзя менять в процессе перевязки
- Ширина бинта должна быть равна или больше диаметра перевязываемой конечности
- Ширина бинта должна быть меньше диаметра перевязываемой части тела
- Туры бинта накладываются по часовой стрелке относительно бинтующего (преимущественно)
- Туры бинта накладываются всегда против часовой стрелки относительно бинтующего
- Повязку следует начинать накладывать с более узкого места, постепенно переходя к более широкому
- Повязку следует начинать накладывать с более широкого места, постепенно переходя к более узкому

Максимальная оценка за работу – 200 баллов.